

LIBRIS

We know
books

GENIU LA MATE

TABLA ÎNMULTIRII ȘI GEOMETRIA

și multe altele!



ADUNĂRI PÂNĂ LA 1000

1. EFECTUEAZĂ adunările de mai jos și scrie rezultatul:

$37 + 88 = \dots\dots\dots$ $123 + 66 = \dots\dots\dots$ $654 + 345 = \dots\dots\dots$

$54 + 24 = \dots\dots\dots$ $45 + 157 = \dots\dots\dots$ $582 + 298 = \dots\dots\dots$

$67 + 49 = \dots\dots\dots$ $248 + 89 = \dots\dots\dots$ $149 + 810 = \dots\dots\dots$

$91 + 13 = \dots\dots\dots$ $31 + 111 = \dots\dots\dots$ $359 + 520 = \dots\dots\dots$

2. SCRIE numerele care lipsesc.

$58 + \dots\dots\dots = 70$ $\dots\dots\dots + 139 = 159$ $11 + 98 = \dots\dots\dots$

$\dots\dots\dots + 77 = 98$ $125 + \dots\dots\dots = 256$ $94 + 59 = \dots\dots\dots$

SCĂDERI

3. EFECTUEAZĂ scăderile și scrie rezultatul:



$75 - 15 = \dots\dots\dots$ $164 - 43 = \dots\dots\dots$


$96 - 37 = \dots\dots\dots$ $285 - 77 = \dots\dots\dots$

$67 - 12 = \dots\dots\dots$ $462 - 81 = \dots\dots\dots$

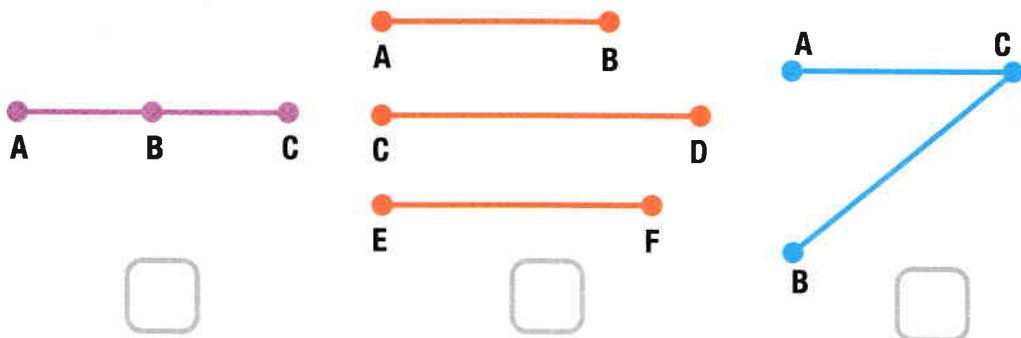
4. SCRIE numerele care lipsesc:

$88 - \dots\dots\dots = 13$ $\dots\dots\dots - 27 = 348$

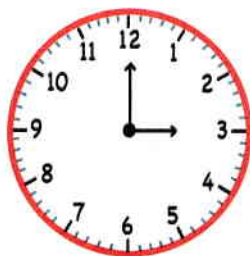
5. COLOREAZĂ cu roșu dreptele, cu galben semidreptele și cu albastru segmentele.



6. MARCHEAZĂ segmentele paralele (P), consecutive (C) și adiacente (A).




7. ROTEȘTE orarul (minutarul rămâne pe loc) până la ora indicată.



ora 7:00



ora 11:10



ora 4:25



ora 2:40

ÎNMULȚIRI PÂNĂ LA 1000

8. EFECTUEAZĂ înmulțirile și scrie rezultatul:

$43 \times 4 = \dots\dots\dots$

$100 \times 7 = \dots\dots\dots$

$85 \times 11 = \dots\dots\dots$

$12 \times 1 = \dots\dots\dots$

$46 \times 12 = \dots\dots\dots$

$242 \times 2 = \dots\dots\dots$

$33 \times 7 = \dots\dots\dots$

$325 \times 3 = \dots\dots\dots$

$64 \times 14 = \dots\dots\dots$

$56 \times 4 = \dots\dots\dots$

$74 \times 10 = \dots\dots\dots$

$124 \times 8 = \dots\dots\dots$

$50 \times 2 = \dots\dots\dots$

$134 \times 4 = \dots\dots\dots$

$19 \times 50 = \dots\dots\dots$

9. SCRIE factorii lipsă:

$15 \times \dots\dots\dots = 45$

$100 \times \dots\dots\dots = 700$

$\dots\dots\dots \times 52 = 104$

$30 \times \dots\dots\dots = 60$

$150 \times \dots\dots\dots = 300$

$\dots\dots\dots \times 11 = 99$

$22 \times \dots\dots\dots = 88$

$300 \times \dots\dots\dots = 900$

$\dots\dots\dots \times 10 = 800$

10. RESCRIE numerele în ordine crescătoare, iar dedesubt în ordine descrescătoare:

756 • 1108 • 356 • 86 • 1080 • 1079 • 400

50 • 1500 • 109 • 110 • 500 • 1499 • 655

11. EFECTUEAZĂ împărțirile și scrie rezultatul:

$88 : 4 = \dots\dots\dots$

$105 : 7 = \dots\dots\dots$

$462 : 77 = \dots\dots\dots$

$48 : 6 = \dots\dots\dots$

$104 : 8 = \dots\dots\dots$

$144 : 6 = \dots\dots\dots$

$27 : 3 = \dots\dots\dots$

$166 : 2 = \dots\dots\dots$

$570 : 30 = \dots\dots\dots$

$65 : 5 = \dots\dots\dots$

$130 : 10 = \dots\dots\dots$

$648 : 8 = \dots\dots\dots$

$80 : 1 = \dots\dots\dots$

$156 : 4 = \dots\dots\dots$

$284 : 4 = \dots\dots\dots$

12. SCRIE termenii lipsă:

$80 : \dots\dots\dots = 10$

$130 : \dots\dots\dots = 1$

$\dots\dots\dots : 3 = 20$

$90 : \dots\dots\dots = 18$

$250 : \dots\dots\dots = 50$

$\dots\dots\dots : 6 = 15$

$66 : \dots\dots\dots = 6$

$430 : \dots\dots\dots = 43$

$\dots\dots\dots : 7 = 13$

13. COMPARĂ numerele și SCRIE simbolul corect (>, < sau =):

$135 \square 143$

$404 \square 414$

$765 \square 765$

$576 \square 567$

$259 \square 313$

$900 \square 990$

